


- **Materiał przygotowany dla klasy 4 (działania pisemne).**
- **Dzielimy klasę na 4 - 5 grup; każda grupa dostaje te same zadania do rozwiązania, ale inne kody QR do zamalowania. Każdy kod, to jedna cyfra szyfru na kłódce, którą zamknięta jest skrzynka, a w niej niespodzianka:)**
- **zestaw zawiera: karty pracy dla grup, kody QR oraz odpowiedzi.**



1. Zajączek Leon do ozdobienia drzewek jajkami zużył ich już 458. Ile jeszcze zostało do powieszenia, jeżeli ma ich łącznie 928?

2. Leon na 12 rodzeństwa. Do każdego koszyczka wielkanocnego mama włożyła po 24 pisanki. Ile pisanek łącznie było w koszyczkach?

w
cia
kawa

Psianki i Jajka


4. Leon z rodzeństwem i innymi kolegami niecierpliwie czekali na "śmingusa-dyngusa". Z tej okazji przygotowali 168 "psikawek" wypełnionych wodą. Każdy króliczek otrzymał po 4 "psikawki". Ile króliczków wzięło udział w tym wydarzeniu?
4.....

1. Zajączek Leon do ozdobienia drzewek jajkami zużył ich już 458. Ile jeszcze zostało do powieszenia, jeżeli ma ich łącznie 928?

3. Mama Leona upiekła 8 mazurków, 5 babek wielkanocnych i 2 serniki. Każde ciasto podzieliła na 5 równych kawałków. Ile kawałków ciasta otrzymała?

4. Leon z rodzeństwem i innymi kolegami niecierpliwie czekali na "śmingusa-dyngusa". Z tej okazji przygotowali 168 "psikawek" wypełnionych wodą. Każdy króliczek otrzymał po 4 "psikawki". Ile króliczków wzięło udział w tym wydarzeniu?

odp: 1.....2.....3.....4.....




grupa




- zamaluj cyfrę dziesiątek z wyniku zadania 1
- zamaluj cyfrę setek z wyniku zadania 2
- zamaluj cyfrę jedności z wyniku zadania 3
- zamaluj cyfrę jedności z wyniku zadania 4

grupa 2




- zamaluj sumę cyfr z wyniku zadania 4
- zamaluj cyfrę setek z wyniku zadania 2
- zamaluj różnicę cyfr dziesiątek i setek w zadaniu 1
- zamaluj cyfrę jedności z wyniku zadania 3

grupa 3




- zamaluj sumę cyfr z wyniku zadania 4
- zamaluj sumę cyfr dziesiątek i jedności z wyniku zadania 2
- zamaluj cyfrę jedności w zadaniu 3
- zamaluj różnicę cyfr jedności i dziesiątek z wyniku zadania 1

grupa 4



- zamaluj cyfrę jedności z wyniku zadania 4
- zamaluj iloczyn cyfr setek i jedności z wyniku zadania 2
- zamaluj cyfrę jedności w zadaniu 3
- zamaluj połowę cyfry dziesiątek z wyniku zadania 1

Pani
Cyferka



grupa 5



- zamaluj połowę cyfry dziesiątek z wyniku zadania 1
- zamaluj sumę cyfr z wyniku zadania 2
- zamaluj cyfrę jedności w zadaniu 3
- zamaluj cyfrę jedności z wyniku zadania 4

Pani
Cyferka

Odpowiedzi:

zad. 1

zad.

Pani Cyferka

Pani
Cyferka