
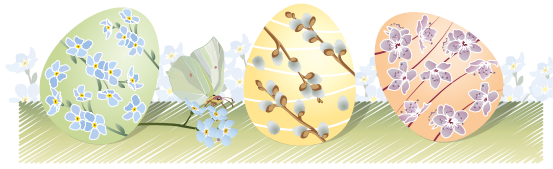


- **Materiał przygotowany na ostatnią lekcję przed Świętami Wielkanocnymi dla klasy 5 i 6 (działania na ułamkach)**
- **Dzielimy klasę na 4 - 5 grup; każda grupa dostaje te same zadania do rozwiązania, ale inne kody QR do zamalowania. Każdy kod, to jedna cyfra szyfru na kłódce, którą zamknięta jest skrzynka, a w niej niespodzianka:)**





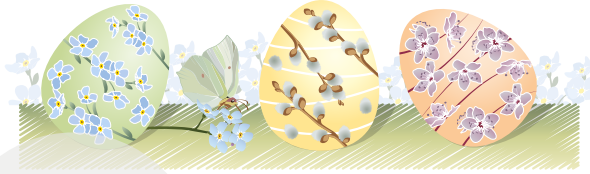
1. Mama zająca Leona postanowiła rozłożyć wielkanocne jajka pod 5 drzewami. Pod pierwszym drzewem umieściła 4 jajka. Pod drugim umieściła dwa razy tyle. Pod trzecim rozłożyła tyle, ile pod drugim, ale dodała tam jeszcze 1 jajko. Pod czwartym umieściła 5 jajek, a pod piątym dwa razy tyle co pod trzecim. Ile jajek rozłożyła mama?

2. W starym kurniku mieszkały trzy kury. Rano mama Leona pozbrała jajka, żeby zrobić z nich wielkanocne pisanki. Od każdej z kur zebrała inną ilość jajek. Pierwsza kura zniosła 2 razy więcej jajek niż druga, a trzecia zniosła o 5 jajek więcej niż pierwsza. Gospodyni policzyła zebrane jajka i okazało się, że ma ich 30. Ile jajek zniosła trzecia kura z tego kurnika?

3. Dwa zające: Leon i Antek kolekcjonują pisanki. Na początku Antek miał 2 razy więcej niż Leon. Wtem przyszedł lis i ukradł 5 pisanek z kolekcji Antka. Razem teraz zające mają 28 pisanek. Ile pisanek miał początkowo Leon, a ile Antek?

4. Trzy kury w ciągu 3 dni znoszą 3 jajka. Ile jajek zniesie 12 kur w ciągu 12 dni?

odp: 1.....2.....3.....4.....

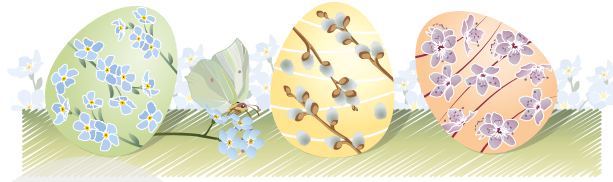


grupa 1



- zamaluj cyfrę dziesiątek z wyniku zadania 4
- zamaluj cyfrę jedności z wyniku zadania 2
- zamaluj sumę cyfr pisanek Antka z wyniku zadania 3
- zamaluj cyfrę jedności z wyniku zadania 1

Pani
Cyferka




grupa 2



- **zamaluj cyfrę dziesiątek z wyniku zadania 4**
- **zamaluj iloczyn cyfr z wyniku zadania 2**
- **zamaluj cyfr dziesiątek w zadaniu 1**
- **zamaluj sumę cyfr pisanek Antka z wyniku zadania 3**

grupa 3




- zamaluj cyfrę jedności z wyniku zadania 4
- zamaluj suma cyfr podzielona na 2 z zadania 2
- zamaluj suma cyfr pisanek Antka z zadania 3
- zamaluj sumę cyfr z wyniku zadania 1

grupa 4




- **zamaluj cyfrę dziesiątek z wyniku zadania 4**
- **zamaluj cyfra jedności z wyniku zadania 2**
- **zamaluj cyfrę jedności wszystkich pisanek w zadaniu 3**
- **zamaluj iloczyn cyfr podzielony na 2 z wyniku zadania 1**

grupa 5



- zamaluj cyfry dziesiątek z wyniku zadania 1
- zamaluj różnicę cyfry jedności i dziesiątek z wyniku zadania 2
- zamaluj sumę cyfr pisanek Antka z zadania 3
- zamaluj cyfrę jedności pomniejszoną o 3 z wyniku zadania 4

Odpowiedzi



1. Mama zająca Leona postanowiła rozłożyć wielkanocne jajka pod 5 drzewami. Pod pierwszym drzewem umieściła 4 jajka. Pod drugim umieściła dwa razy tyle. Pod trzecim rozłożyła tyle, ile pod drugim, ale dodała tam jeszcze 1 jajko. Pod czwartym umieściła 5 jajek, a pod piątym dwa razy tyle co pod trzecim. Ile jajek rozłożyła mama? - **32**

2. W starym kurniku mieszkały trzy kury. Rano mama Leona pozbiierała jajka, żeby zrobić z nich wielkanocne pisanki. Od każdej z kur zebrała inną ilość jajek. Pierwsza kura zniosła 2 razy więcej jajek niż druga, a trzecia zniosła o 5 jajek więcej niż pierwsza. Gospodyni policzyła zebrane jajka i okazało się, że ma ich 30. Ile jajek zniosła trzecia kura z tego kurnika? - **15**

3. Dwa zające: Leon i Antek kolekcjonują pisanki. Na początku Antek miał 2 razy więcej niż Leon. Wtem przyszedł lis i ukradł 5 pisanek z kolekcji Antka. Razem teraz zające mają 28 pisanek. Ile pisanek miał początkowo Leon, a ile Antek? **A - 17 ; L - 11**

4. Trzy kury w ciągu 3 dni znoszą 3 jajka. Ile jajek zniesie 12 kur w ciągu 12 dni? - **48**

KOD KLÓDKI 43857