

STACJA 12

Podaj miarę kąta, o który obraca się wskazówka godzinowa w ciągu 100 minut ?



100°

Idź do stacji numer



50°

Idź do stacji numer



60°


Idź do stacji numer



45°



Idź do stacji numer





STACJA 5

Jakiego rodzaju kątów jest na poniższym rysunku najwięcej?



OSTRYCH

Idź do stacji numer



PROSTYCH

Idź do stacji numer



ROZWARTYCH

Idź do stacji numer



PÓŁPEŁNYCH

Idź do stacji numer

