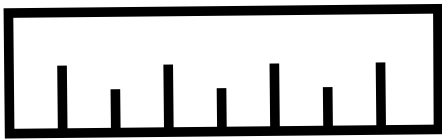



Mierzenie długości


Zmierz linijką długości każdego przedmiotu, zapisz wymiar w centymetrach.
Następnie ponumeruj przedmioty od najdłuższego do najkrótszego.



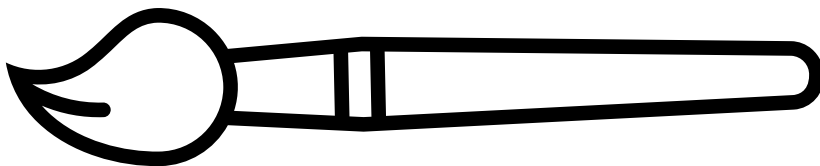
.....cm




.....cm




.....cm



.....cm



.....cm

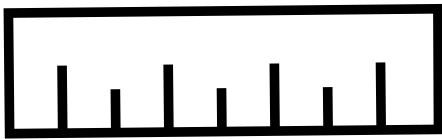


.....cm




Mierzenie długości

Zmierz linijką długości każdego przedmiotu, zapisz wymiar w centymetrach.
Następnie ponumeruj przedmioty od najdłuższego do najkrótszego.




6 cm

3



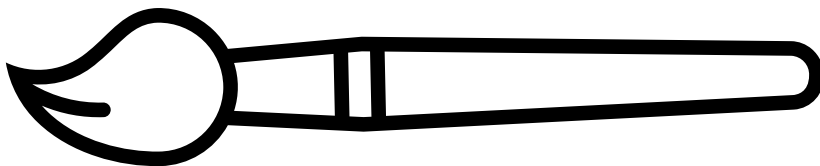
4 cm

5




2 cm

6



11 cm

1



7 cm

2



5 cm

4

